

Classroom Based Assessment - 3 (Summative Assessment - 2) (2022-23)

UDISE Code : _____

Class : 6

Child ID : _____

Subject : Hindi

Child Name : _____


No. of Questions : 30

Total Marks : 80

Duration : 150 minutes

खंड अ : नीचे दिए गए प्रश्नों के सही उत्तर विकल्पों से चुनिए । 20 x 2 = 40

1.



चित्र का नाम पहचानिए ।

[.]


A) कौआ

B) तोता

C) चील

D) मोर

2.



चित्र का नाम पहचानिए ।

[]

A) अमरुद

B) तरबूज

C) संतरा

D) चीकू

3. श _____ र

सही अक्षर चुनकर खाली जगह भरिए ।

[]

A) प

B) ड

C) ह

D) इ

[Turn Over

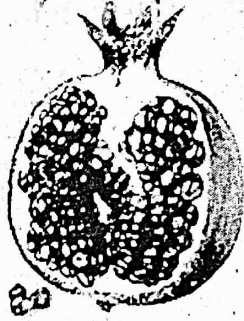
4. किस शब्द की वर्तनी सही है ? []

- A) अगूर B) बंदर C) पखाँ D) पछीं

5. 'कू-कू' किस पक्षी की आवाज़ होती है ? []

- A) मैना B) कौआ C) गोरेया D) कोयल

6. चित्र में दिखाए गए फल का सही लिखा हुआ नाम चुनिए । []



- A) अनर B) अनार C) आनर D) आनार

7. वाक्य को पूरा करने के लिए सही शब्द चुनिए ।

लकड़ी काटने के लिए _____ का प्रयोग किया जाता है । []

- A) पाइप B) कागज़ C) आरा D) चम्मच

8. चित्र देखिए । सही अक्षर चुनकर शब्द पूरा कीजिए । []



_____ रिश


- A) ब B) बा C) बि D) बो

ASR

3

WG - 2

9. सही वर्तनी वाला शब्द पहचानिए । []
A) बकरि B) भकरी C) बकरी D) बाखरी
10. सही वर्तनी वाला शब्द पहचानिए । []
A) ऐनक B) एनैक C) एनेक D) ऐनाक
11. इस चित्र के नाम के प्रथम अक्षर में कौन-सी मात्रा है ? []



- A) आ की मात्रा B) औ की मात्रा C) ओ की मात्रा D) ए की मात्रा
12. 5 को हिंदी में _____ लिखते हैं । []
खाली जगह के लिए सही शब्द पहचानिए ।
A) पाँच B) सात C) चार D) दस
13. नीचे दिए गए अक्षरों को जोड़कर कौन-सा सही शब्द बनेगा ? []
क, ह, ल, ट
A) कटहल B) कलहट C) लहकट D) कहटल
14. सही वर्तनी वाला शब्द पहचानिए । []
A) षटभूज
B) छटभुज
C) षटभुज
D) शटभुज

[Turn Over

15. श् + र = _____

खाली जगह के लिए सही विकल्प चुनिए ।

- A) क्ष B) श्र C) त्र D) शृ

16. गुलाबी फूल पर तीतली बैठी है ।

वाक्य में गलत वर्तनी वाले शब्द को पहचानिए ।

- A) गुलाबी B) फूल C) तीतली D) बैठी


17. य _____

खाली जगह में कौन-सा अक्षर लगाने पर सही शब्द बनेगा ?


- A) श्र B) ज्ञ C) ङ D) ख

भालू और कछुए भिन्न कथा के आधार पर नीचे दिए गए प्रश्नों के उत्तर दीजिए।

दो कछुए नदी के किनारे खेल रहे थे । तभी एक भालू ने उन्हें देख लिया ।




वह बहुत भूखा था । वह उनकी तरफ दौड़ा ।



यह देखकर दोनों कछुए साथ-साथ नदी की तरफ लुढ़कने लगे और पानी में पहुँच गए ।



भालू एक चट्टान पर गिरा और उसका सिर उससे टकरा गया ।



कछुए तैरकर चले गए । भालू अपना सिर पकड़े बैठा रहा ।

18. सही उत्तर को चुनिए ।

भालू क्या ढूँढ़ रहा था? []

A) पानी

B) खाना

C) चट्टान

D) सोने के लिए जगह

19. वाक्य पूरा करने के लिए सही उत्तर को चुनिए ।

जब कछुओं ने एक-दूसरे के हाथ और पैर पकड़ लिए तब वे एक गेंद की तरह

_____ लगे । []

A) चलने

B) दौड़ने

C) लुढ़कने

D) फिसलने

[Turn Over

20. कहानी में कुल कितने कछुए हैं ? []

- A) एक B) दो C) तीन D) चार

खंड ब - नीचे दिए गए प्रश्नों के उत्तर, उत्तर पुस्तिका में लिखिए ।

2 x 2 = 4

21. ऊपर दी गई कहानी के अनुसार नीचे दिए गया वाक्य सही है या गलत ?

सही (✓) अथवा गलत का (✗) निशान लगाइए ।

भालू कछुओं को नहीं पकड़ पाया । []

22. 'उ', 'ऊ' और 'ऋ' मात्रावाले शब्दों को अलग करके तालिका में लिखिए ।

कुमार, कृषक, भालू, सुई, मृग, आलू, रुमाल, डकू, सृजन, सुनार, साधु, चालू

उ की मात्रा	ऊ की मात्रा	ऋ की मात्रा

[]

खंड स - नीचे दिए गए प्रश्नों के उत्तर, उत्तर पुस्तिका में लिखिए ।

6 x 4 = 24

23. 'ई' की मात्रा वाले दो शब्द लिखिए ।

24. चित्र के आधार पर वर्तनी सही करके लिखिए ।



नम =



ईआना =

25. रसोईघर में उपयोग होने वाली दो वस्तुओं के नाम लिखिए ।

26 दो पशुओं के नाम लिखिए ।

27. 'फ' और 'भ' अक्षरों से शरु होने वाले एक-एक शब्द लिखिए ।

28. चित्र का नाम पहचानकर लिखिए ।



खंड द : नीचे दिए गए प्रश्नों के उत्तर, उत्तर पुस्तिका में लिखिए ।

2 x 6 = 12

29. उचित अक्षर चुनकर शब्द पूरा लिखिए ।

___ कान (त/थ/द)

ध ___ ती (र/ल/व)

वत ___ (न/ण/क)

30. तीन पक्षियों के नाम लिखिए ।

